



دفترچه سوال



آزمون شماره ۴ تیزهوشان ششم

دوره مهر ۱۴۰۱ تا اردیبهشت ۱۴۰۲

ساعت ۱۵:۰۰

نام درس	تعداد سوال	شماره سوال	شماره صفحه	وقت پیشنهادی
هوش کلامی	۲۵	۱-۲۵	۱-۳	۴۵ دقیقه
هوش تصویری	۲۵	۲۶-۵۰	۳-۷	۴۵ دقیقه

تعداد کل سوالات	زمان کل آزمون
۵۰ سوال	۹۰ دقیقه

هیئت تالیف و گردآوری : سهیل ربیعی، علی توفیقی، مرتضی حبیبی

تذکر مهم: به ازای هر پاسخ صحیح، (۳) نمره مثبت و به ازای هر پاسخ غلط، (۱) نمره منفی برای داوطلب در نظر گرفته میشود. برای پرسشهای بدون پاسخ، نمره‌ای در نظر گرفته نمیشود. چنانچه داوطلب در هر پرسش بیش از یک گزینه را عالمت زده باشد، (۱) نمره منفی برای او در نظر گرفته میشود.

هوش کلامی و واژگانی

۱. دانش آموزانی که دارای قابلیت‌ها و استعداد‌های درخشان هستند، در برابر حل مسائل اساسی و مدیریت تحول آینده کشور، مسئولیت بیشتری بر عهده دارند. آگاهی از این مسئولیت، ایشان را میکند که با شناسایی نیازهای کشور و تلاش و پشتکار، شایستگی‌های لازم را برای حداکثری در جامعه به دست بیاورند.

- (۱) ترغیب - اثرگذاری
(۲) مجبور - سیاست گذاری
(۳) تشویق - اثرپذیری
(۴) ناگزیر - پژوهش

۲. اگر حروف الفبا را از راست به چپ بنویسیم، دوازدهمین حرف در سمت راست نوزدهمین حرف الفبای فارسی، کدامیک از حروف زیر است؟

- (۱) ح (۲) چ (۳) ج (۴) ه

۳. اگر حروف الفبا را از راست به چپ بنویسیم، سپس ترتیب حروف نیمه اول الفبای فارسی را برعکس کنیم، در این صورت ششمین حرف از سمت چپ یازدهمین حرف از سمت راست، کدامیک از گزینه‌ها خواهد بود؟

- (۱) ر (۲) ص (۳) ض (۴) ذ

۴. از ترکیب حروف کدام گزینه میتوان کلمه ای ساخت که به مفهوم کلمه "فوق العاده" نزدیک تر باشد؟

- (۱) گ ت آ ف ر ش و (۲) ر ل ب ف غ ا (۳) ب ح ص م ت ا (۴) ظ م ف ح و

* در سوال های ۵ کدام سه حرفی های زیر لازم است ترکیب شوند تا کلمه ای مترادف کلمه ی صورت سوال ایجاد شود؟
(راهنمایی: بهتر است گزینه ها را بررسی کنید تا زمان کمتری از شما ببرد.)

۵. زوال

- (۱) ف ا ز (۲) ب د ن (۳) ی ا ش (۴) م ا ه
(۵) ر ی گ (۶) و ا ی (۷) خ ت ا (۸) س ن ی
(۱) ۳ و ۱ (۲) ۸ و ۷ (۳) ۶ و ۲ (۴) ۵ و ۴

۶. ارتباط "افق" با "کرانه" مانند ارتباط "اهتزاز" است با

- (۱) شرق (۲) دین دار (۳) استوار (۴) جنبش

۷. با توجه به جمله ی زیر، به جای واژه ای که زیر آن خط کشیده شده است، از کدام گزینه میتوان استفاده کرد؟

"پس از مورد شمتت قرار گرفتن توسط پدرش، به سمت مدرسه راه افتاد."

- (۱) لزوم (۲) تمجید (۳) سرزنش (۴) ستایش

۸. کدام گزینه به معنای "کار اجباری بی مزد" است.

- (۱) بیکاری (۲) بیگاری (۳) بی عاری (۴) بیزاری

۹. کدام گزینه به معنای " فرو بردن آب یا مایع دیگر در حلق " است.

- (۱) آشامیدن (۲) آراییدن (۳) آساییدن (۴) آرامیدن

۱۰. سومین حرف واژه ای معادل "پرنده ای افسانه ای که گویند بسیار بزرگ بوده و در کوه قاف آشیان دارد" چیست؟

- (۱) س (۲) م (۳) ر (۴) غ

۱۱. کدام گزینه متفاوت است؟ (به مفهوم هم خانواده دقت کنید)

- (۱) عجله (۲) تعجیل (۳) عجول (۴) جعل

* در سوال های ۱۲ و ۱۳ حرف بعدی را پیدا کنید (راهنمایی: به فاصله ی بین حروف الفبا و یا نقطه دار یا نبودن دقت کنید.)

۱۲. ؟ ک ع ض ش س

- (۱) و (۲) ه (۳) ی (۴) ن

۱۳. ؟ س ر د ح ا

- (۱) ک (۲) ط (۳) ع (۴) ص

۱۴. اگر حروف " نالام " را مرتب کنیم. کدام مورد ساخته میشود؟

- (۱) نام یک حیوان (۲) نام یک شهر (۳) نام یک کشور (۴) نام یک دریا

۱۵. اگر حروف " راپیس " را مرتب کنیم. کدام مورد ساخته میشود؟

- (۱) نام یک حیوان (۲) نام یک شهر (۳) نام یک کشور (۴) نام یک دریا

۱۶. سومین حرف واژه ای متضاد " سخت " در زبان عربی، کدام است؟

- (۱) ن (۲) م (۳) ل (۴) ع

۱۷. هر صدای بدی که انسان را آزار میدهد معادل چه کلمه ای است؟

- (۱) آلودگی صوتی (۲) آلودگی بیرونی (۳) اختلال صوتی (۴) آلات صوتی

۱۸. در کدام گزینه همه واژه ها هم خانواده نیستند؟

- (۱) منظور- نظارت- ناظر (۲) توصیف- اوصاف- موصوف (۳) مبصر- بصیرت- صبور (۴) مشورت- شورا- مشاوره

۱۹. نسبت معنایی " محال " و " ممکن " با کدام گزینه همانند است؟

- (۱) ارج و ارزش (۲) مثنوی و قالب (۳) نشیب و فراز (۴) کند فهمی و قوی رای

۲۰. کدام گزینه بخش لازم یا ضروری کلمه " کویر " است؟

- ۱) کاکتوس ۲) خشک ۳) آبادی ۴) هموار

۲۱. به این علت که علامت خطر در مسیر رودخانه خروشان توسط پسرها ... شد، متاسفانه تعدادی از آنها غرق شدند.

- ۱) بدون بررسی ۲) پیگیری ۳) شناسایی ۴) نادیده گرفته

۲۲. معده او آسیب دیده است او گرسنگی زیادی کشیده است.

- ۱) اگر ۲) اگر چه ۳) بنابراین ۴) گویا

اندا - مغا - دروا - شیرا

۲۳. کدام گزینه شبیه به واژگان رو به رو است؟

- ۱) انگی ۲) دنگی ۳) رنگی ۴) هنگی

سر - دی - پار - وا - ماخو - نگی - ردگی

۲۴. کدام گزینه نباید میان واژگان روبرو قرار بگیرد.

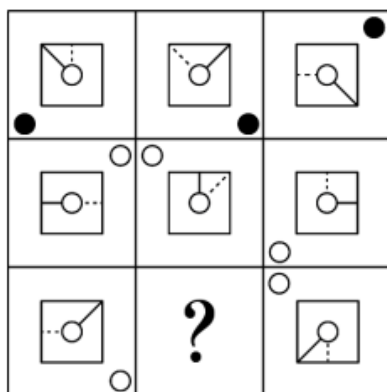
- ۱) سر ۲) دی ۳) پار ۴) نادیده گرفته

۲۵. کدام واژه بیشترین اختلاف را با واژه ی " شیطون " دارد؟

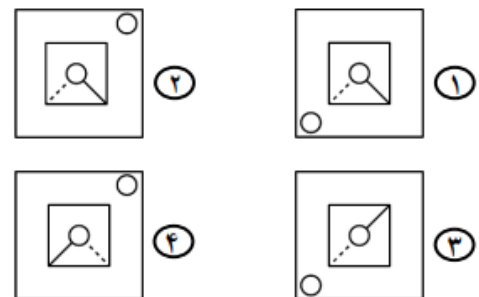
- ۱) فرشته ۲) انسان ۳) آرام ۴) قرآن

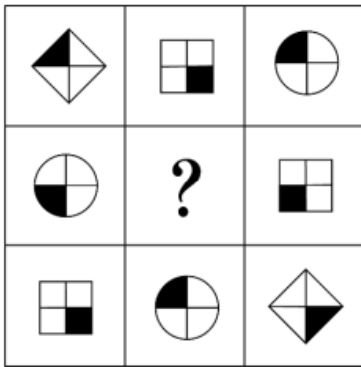
در اینجا سوالات هوش کلامی و واژگانی به پایان رسید. دانش آموزانی که در سانس چهارشنبه حضوری هستند. اکنون امتحانشان به پایان رسیده است ولی سایر دانش آموزان میبایست به بقیه سوالات پاسخ دهند.

هوش تصویری


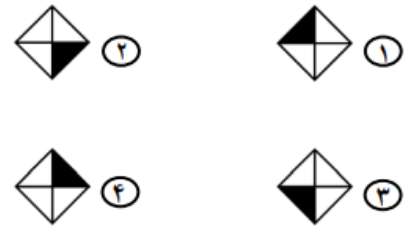


-۲۶

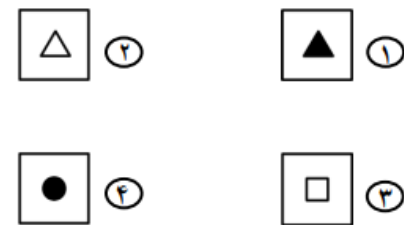




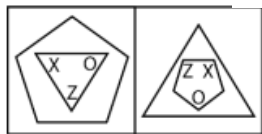
-۲۷



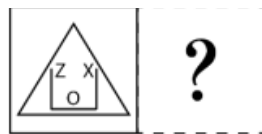
-۲۸



• در سوالات ۲۹ و ۳۰ تعیین کنید رابطه ی الف با ب مانند رابطه ی ج با کدام گزینه است؟

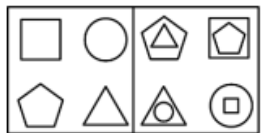


(الف) (ب)

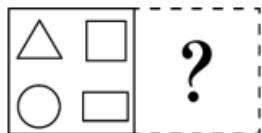


(ج)

-۲۹

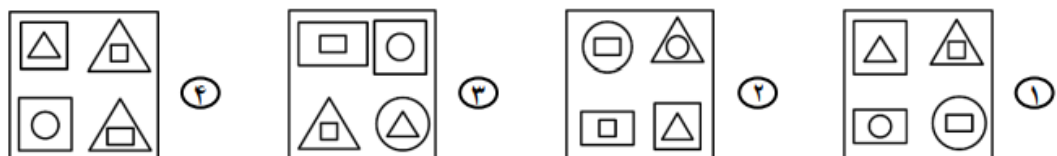



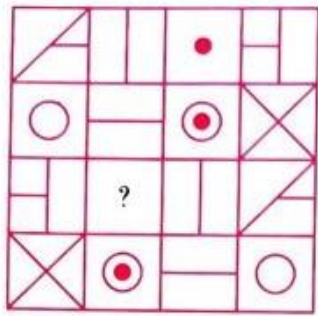
(الف) (ب)




(ج)

-۳۰

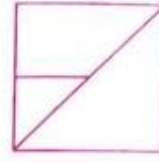




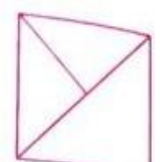
(۱)



(۲)



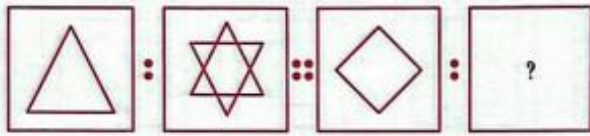
(۳)



(۴)

-۳۱

در سوالات ۳۲ و ۳۳ تعیین کنید که ارتباط شکل اول و دوم مانند ارتباط شکل سوم به کدام گزینه است؟



(۱)

(۲)

(۳)

؟




(۱)



(۲)

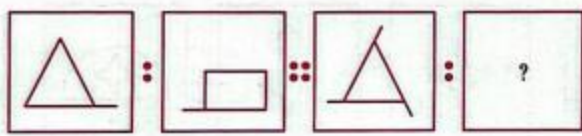


(۳)



(۴)

-۳۲

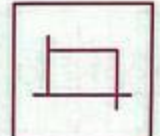


(۱)

(۲)

(۳)

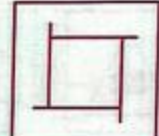
؟



(۱)



(۲)



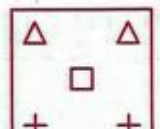
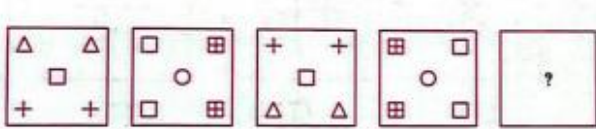
(۳)



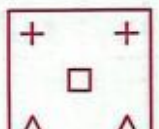
(۴)

-۳۳


در سوالات ۳۴ و ۳۵ تعیین کنید که با توجه به پیشروی الگوی تصویری زیر به جای علامت سوال چه گزینه ای قرار میگیرد؟



(۱)



(۲)



(۳)



(۴)

-۳۴



(۱)



(۲)



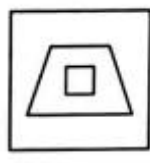
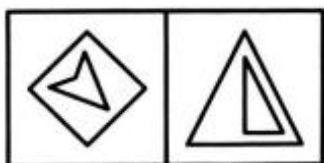
(۳)



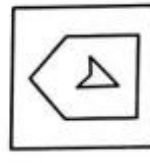
(۴)

-۳۵

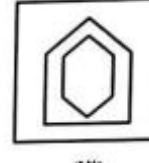
در سوالات ۳۶ و ۳۷ تعیین کنید که کدام شکل شبیه دو شکل داده شده است؟



(۱)



(۲)

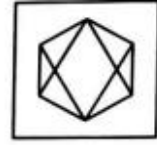
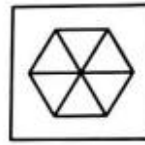

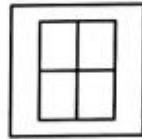
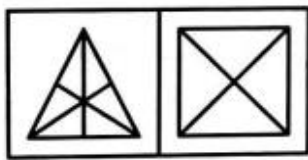


(۳)



(۴)

-۳۶



(۱)

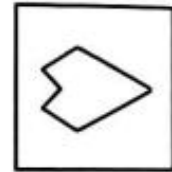
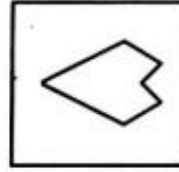
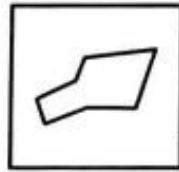
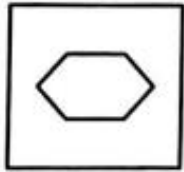
(۲)

(۳)

(۴)

-۳۷

• در سوال ۳۸ تعیین کنید که کدام شکل با بقیه متفاوت است ؟



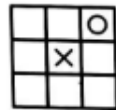
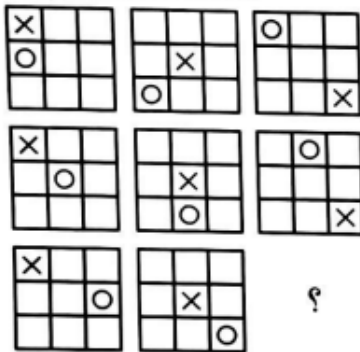
(۱)

(۲)

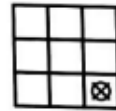
(۳)

(۴)

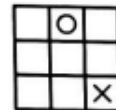
-۳۸



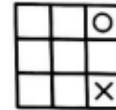
(۲)



(۴)



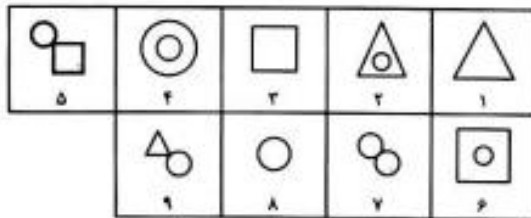
(۱)



(۳)

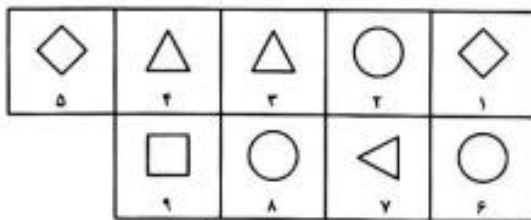
-۳۹

• در سوالات ۴۰ و ۴۱ تعیین کنید که دسته بندی داده شده در کدام گزینه بهتر است.




- (۱) (۱, ۳, ۶) (۲, ۵, ۸) (۴, ۷, ۹)
- (۲) (۱, ۳, ۸) (۲, ۴, ۶) (۵, ۷, ۹)
- (۳) (۱, ۴, ۶) (۲, ۳, ۷) (۵, ۸, ۹)
- (۴) (۳, ۴, ۵) (۱, ۶, ۹) (۲, ۷, ۸)

-۴۰




- (۱) (۱, ۵, ۹) (۲, ۴, ۷) (۳, ۶, ۸)
- (۲) (۲, ۶, ۸) (۱, ۵, ۹) (۳, ۴, ۷)
- (۳) (۳, ۴, ۷) (۲, ۶, ۹) (۱, ۵, ۸)
- (۴) (۱, ۲, ۳) (۴, ۵, ۶) (۷, ۸, ۹)

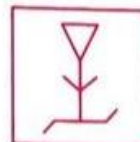
-۴۱



(۱)



(۲)



(۳)



(۴)

-۴۲

• در سوال ۴۳ با کنار هم قرار دادن کدام سه گزینه زیر میتوان یک مربع ساخت؟

(۱)

(۲)

(۳)

(۴)

(۵)

۴۳

۲-۴-۵ (۴) ۲-۴-۵ (۳) ۱-۳-۴ (۲) ۱-۲-۴ (۱)

• در سوال ۴۴ با کنار هم قرار دادن کدام سه گزینه زیر میتوان یک مثلث ساخت؟

(۱)

(۲)

(۳)

(۴)

(۵)

۴۴

۱-۲-۵ (۴) ۳-۴-۵ (۳) ۱-۲-۴ (۲) ۲-۳-۴ (۱)

۴۶

۴۵

۴۸

۴۷

۵۰

۴۹